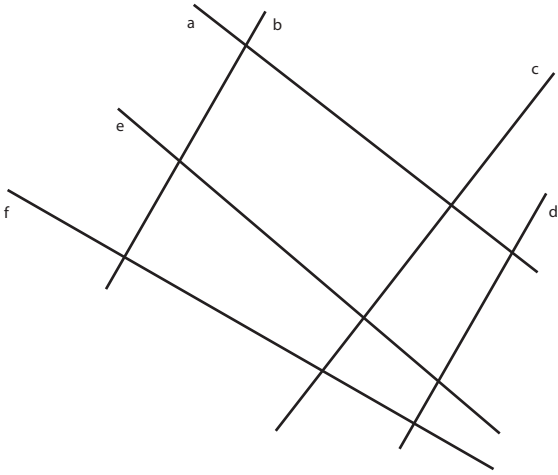


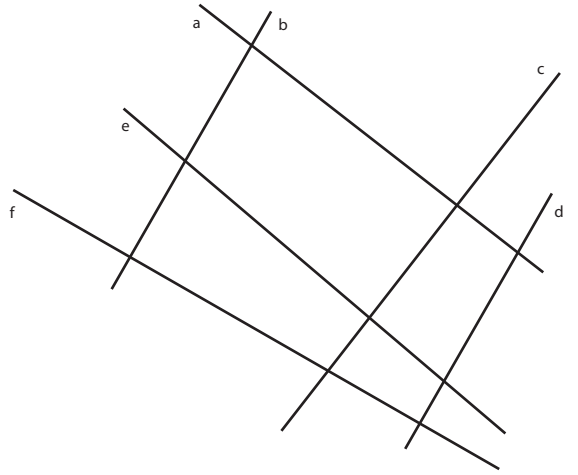
GEOM 1 : DEVOIRS

Quelles sont les droites perpendiculaires ?
Marque les angles droits.



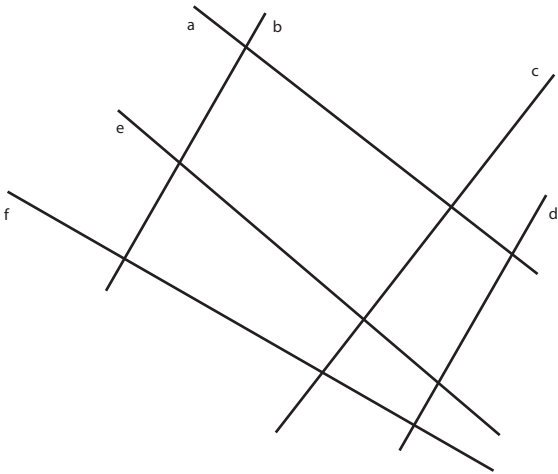
GEOM 1 : DEVOIRS

Quelles sont les droites perpendiculaires ?
Marque les angles droits.



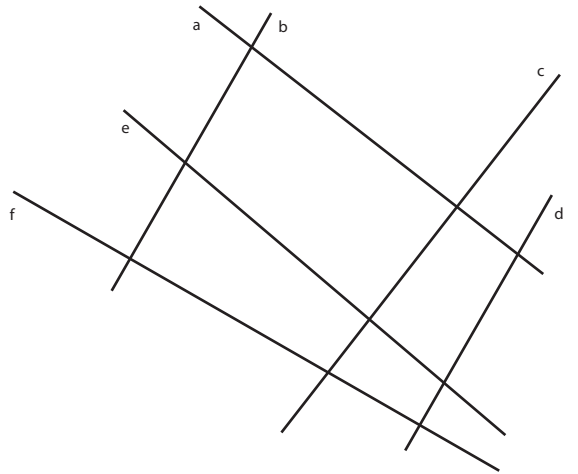
GEOM 1 : DEVOIRS

Quelles sont les droites perpendiculaires ?
Marque les angles droits.



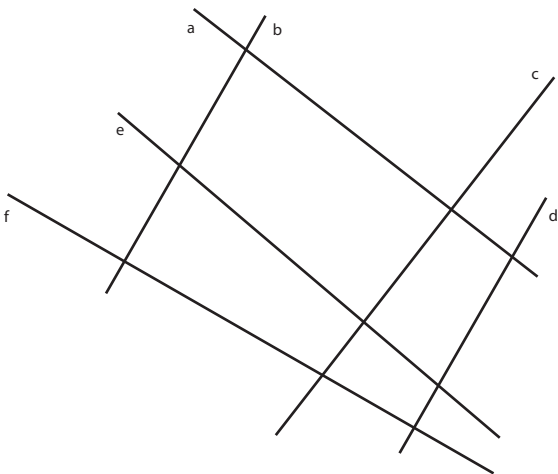
GEOM 1 : DEVOIRS

Quelles sont les droites perpendiculaires ?
Marque les angles droits.



GEOM 1 : DEVOIRS

Quelles sont les droites perpendiculaires ?
Marque les angles droits.



GEOM 1 : DEVOIRS

Quelles sont les droites perpendiculaires ?
Marque les angles droits.

