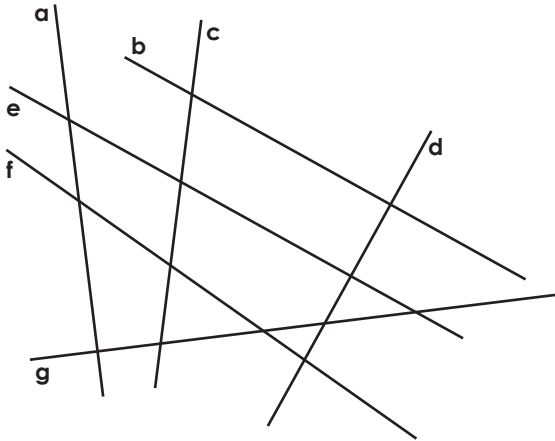


**△ GEOM RAPID'**

DROITES PARALLELES ET PERPENDICULAIRES

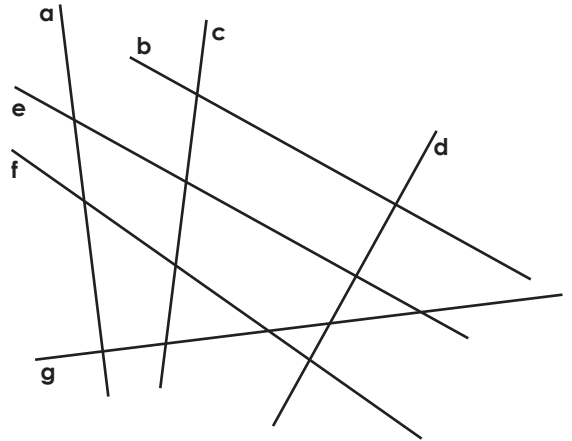
Quelles sont les droites perpendiculaires ?  
Marque les angles droits.



**△ GEOM RAPID'**

DROITES PARALLELES ET PERPENDICULAIRES

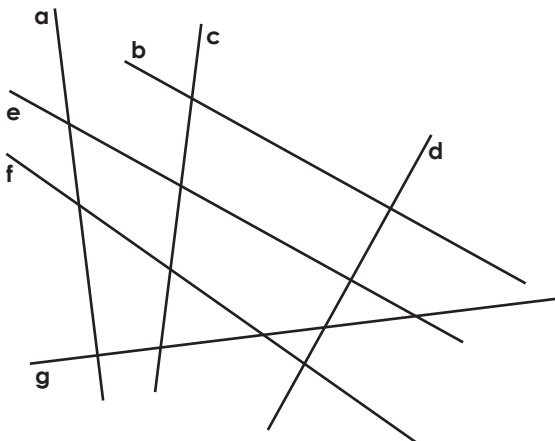
Quelles sont les droites perpendiculaires ?  
Marque les angles droits.



**△ GEOM RAPID'**

DROITES PARALLELES ET PERPENDICULAIRES

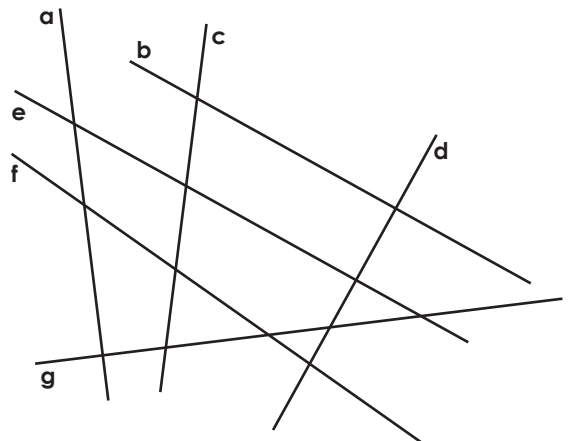
Quelles sont les droites perpendiculaires ?  
Marque les angles droits.



**△ GEOM RAPID'**

DROITES PARALLELES ET PERPENDICULAIRES

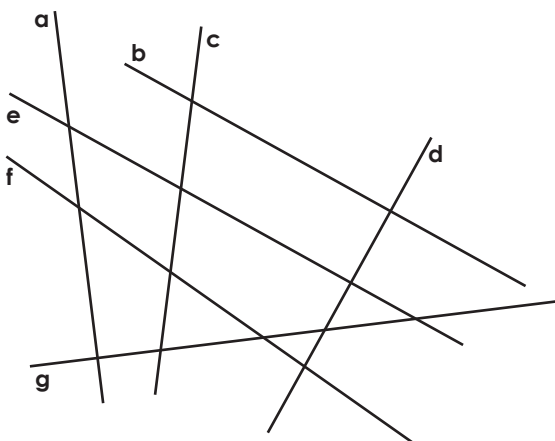
Quelles sont les droites perpendiculaires ?  
Marque les angles droits.



**△ GEOM RAPID'**

DROITES PARALLELES ET PERPENDICULAIRES

Quelles sont les droites perpendiculaires ?  
Marque les angles droits.



**△ GEOM RAPID'**

DROITES PARALLELES ET PERPENDICULAIRES

Quelles sont les droites perpendiculaires ?  
Marque les angles droits.

